

Hans Walser, [20150907]

Kegelschnitte und Tangentenvierecke

1 Worum geht es?

Wir können mit Kegelschnitten Tangentenvierecke zeichnen.

2 Hyperbel

Auf einer Hyperbel mit den Brennpunkten F und G wählen wir zwei Punkte A und B . Das Viereck $FAGB$ ist ein Tangentenviereck (Abb. 1).

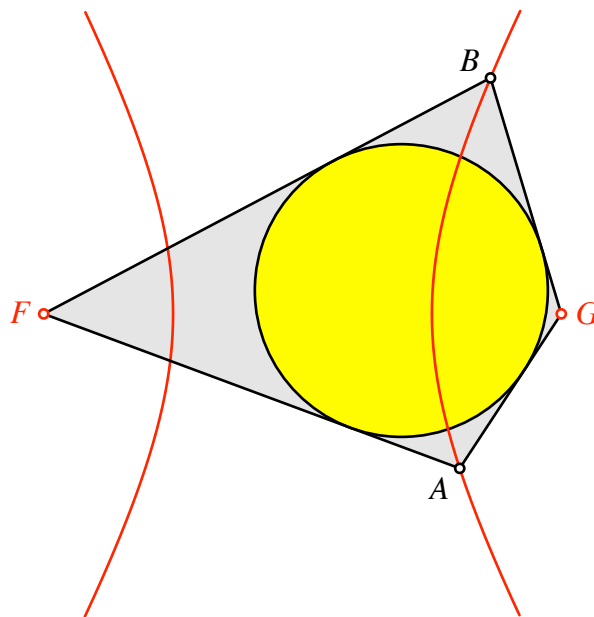


Abb. 1: Tangentenviereck

Das geht auch im nicht konvexen Fall (Abb. 2).

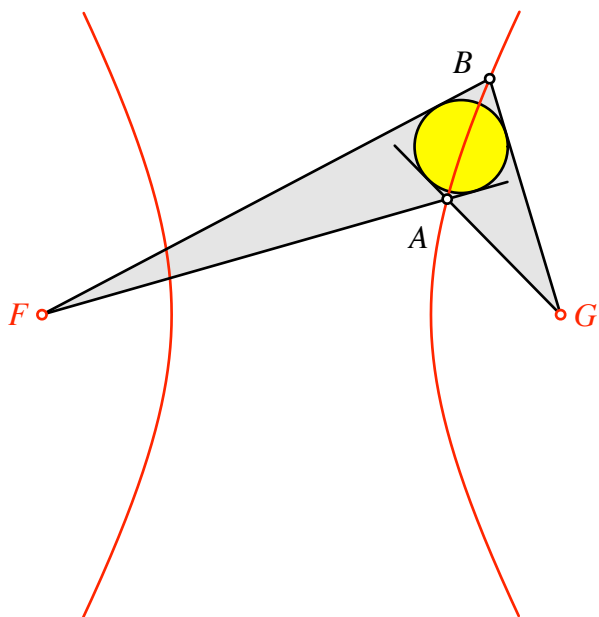


Abb. 2: Nicht konvexes Beispiel

3 Ellipse

Auf einer Ellipse mit den Brennpunkten F und G wählen wir zwei Punkte A und B . Das Viereck $FAGB$ ist ein Tangentenviereck (Abb. 3).

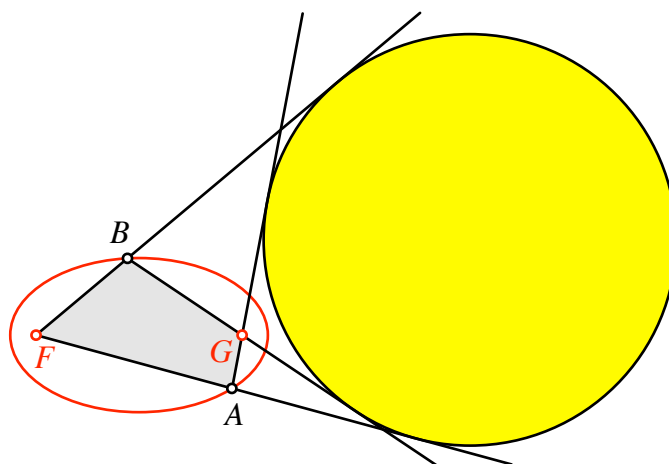


Abb. 3: Ankreis

Es geht auch im nicht konvexen Fall (Abb. 4).

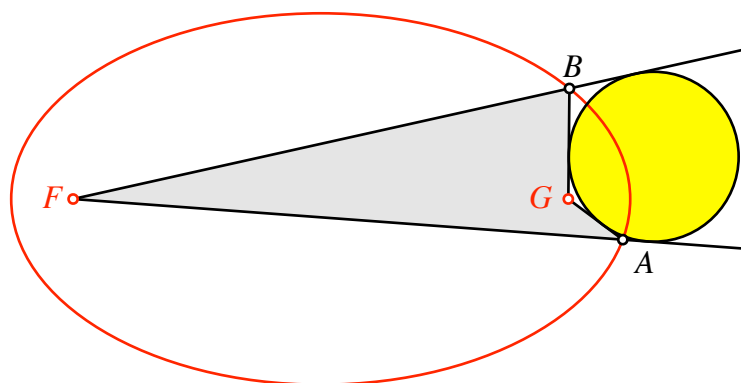


Abb. 4: Nicht konvexes Beispiel

Und es geht auch im „überschlagenen“ Fall (Abb. 5).

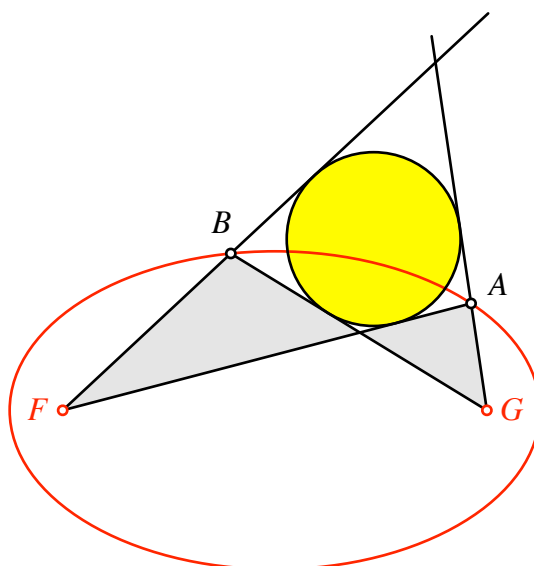


Abb. 5: Überschlagenes Tangentenviereck

Wir erkennen in der Abbildung 5 ein weiteres, konvexes Tangentenviereck. Die beiden noch nicht bezeichneten Ecken liegen auf einer Hyperbel mit den beiden Brennpunkten F und G (Abb. 6).

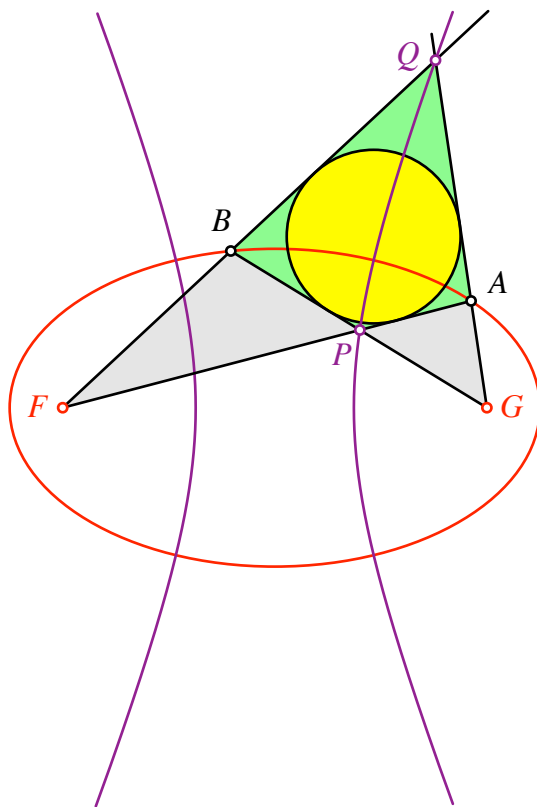


Abb. 6: Hyperbel

4 Diagonalkegelschnitte

Wir können die Sichtweise auch umkehren: wir beginnen mit einem Tangentenviereck $ABCD$ und zeichnen die beiden weiteren Schnittpunkte F und G (Abb. 7).

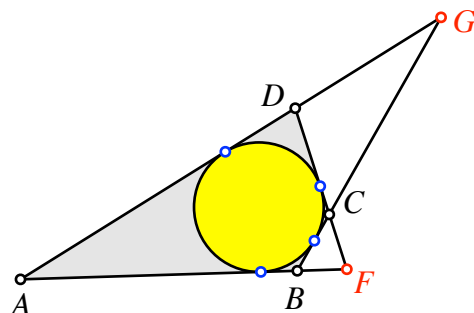


Abb. 7: Tangentenviereck

Dann liegen die beiden gegenüberliegenden Ecken A und C sowie B und D je auf einem Kegelschnitt mit den Brennpunkten F und G (Abb. 8). Wir erhalten zwei „Diagonalschnittpunkte“ M und N .

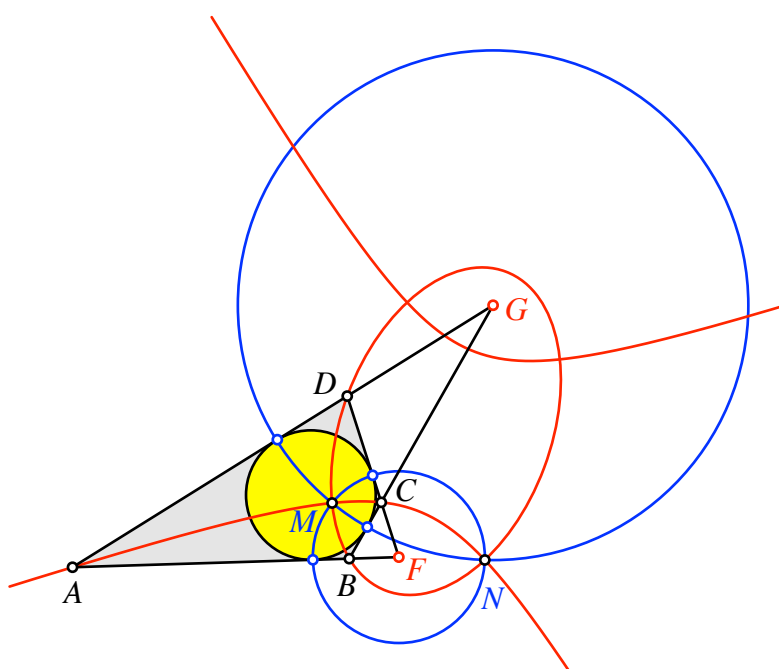


Abb. 8: Diagonale Kegelschnitte

Die Kreise um F beziehungsweise G durch die Berührungspunkte des Inkreises verlaufen ebenfalls durch M und N .

5 Parabel

Wir beginnen mit einer Parabel mit dem Brennpunkt F . Der Punkt G sei der unendlich ferne Punkt auf der Symmetrieachse der Parabel. Auf der Parabel wählen wir die beiden Punkte A und B . Das Viereck $FAGB$ ist dann ein Tangentenviereck (Abb. 9).

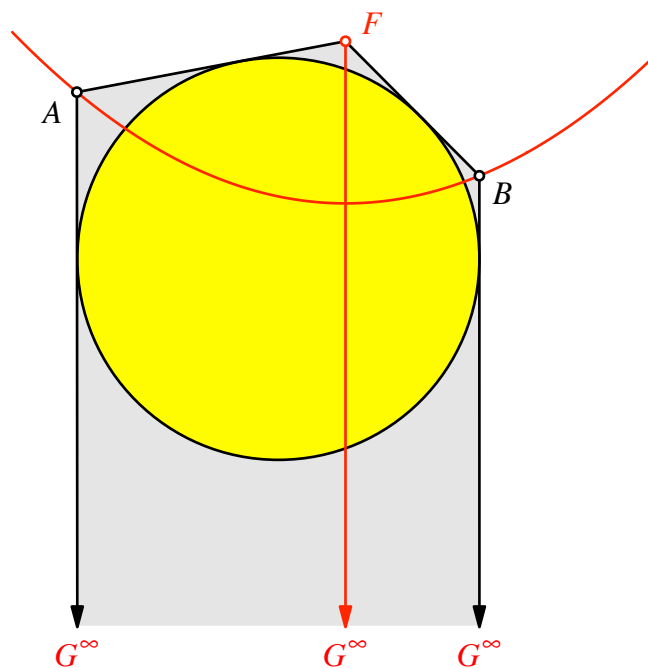


Abb. 9: Parabel

6 Hintergrund

Der Hintergrund dieser Eigenschaften sind die Abstandsdefinitionen der Kegelschnitte.